

ZAHODNA EVROPA



Obala Irske



Amsterdam



Paris



London

Sedež Evropske komisije v Bruslju

© Modrijan založba, d. o. o.



© Modrijan založba, d. o. o.

Stavba Evropskega parlamenta v Strasbourggu



LEGA IN POLITIČNA DELITEV

1. ZAHODNA ALI ATLANTSKA EVROPA
zavzema tiste dele Evrope, ki so pod
močnim vplivom Atlantskega oceana.

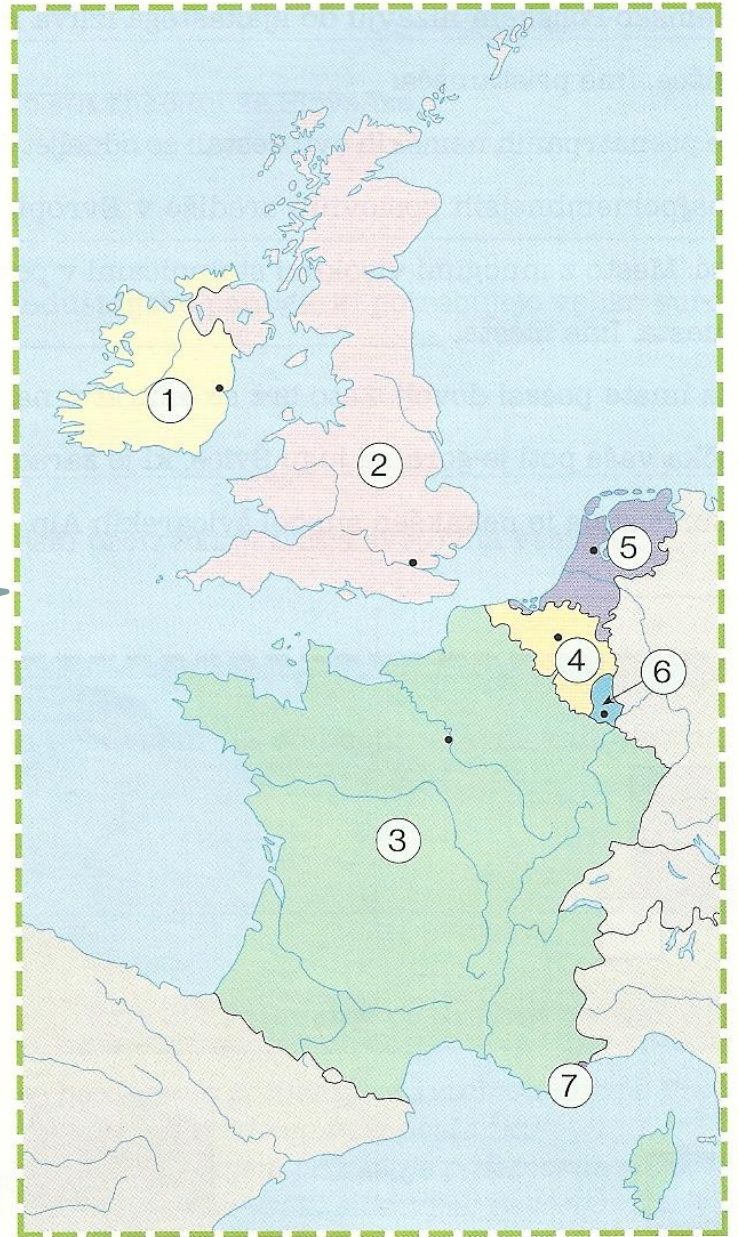
V SDZ poišči nemo karto Zahodne Evrope,
vanjo vpiši države in glavna mesta. Karto
prilepi v zvezek.



2. DRŽAVE IN GLAVNA MESTA:

- BRITANSKO OTOČJE
 - VELIKA BRITANIJA - London
 - IRSKA – Dublin
- FRANCIJA
 - FRANCIJA – Pariz
- BENELUKS
 - BELGIJA – Bruselj
 - NIZOZEMSKA – Amsterdam
 - LUKSEMBURG – Luksemburg
- MONAKO – Monako

Reši vajo 24 na str. 60

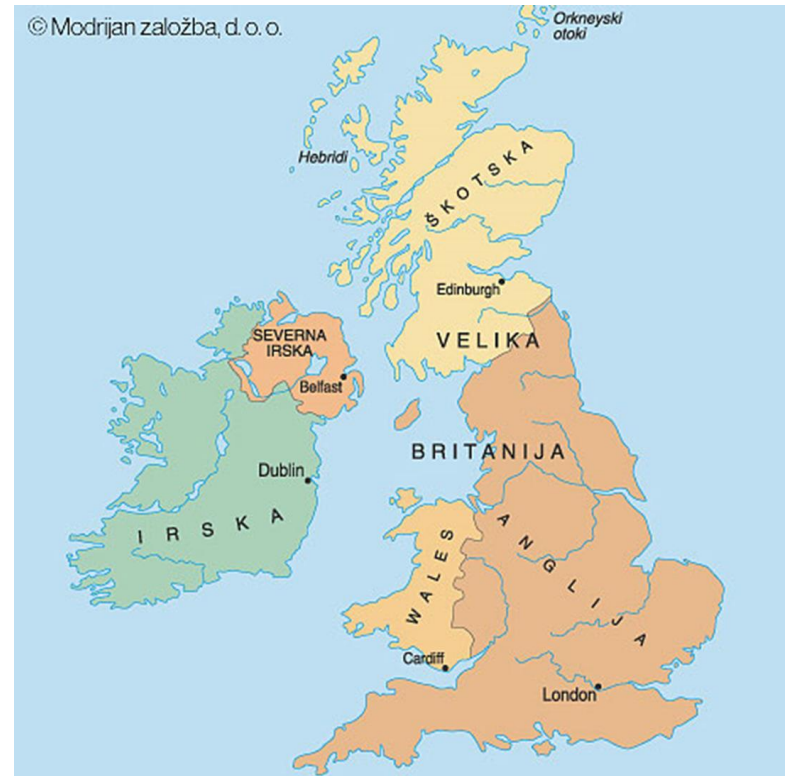


3. DELITEV BRITANSKEGA OTOČJA:

- BRITANSKO OTOČJE SESTAVLJATA DVA VELIKA OTOKA: - **VELIKA BRITANIJA IN IRSKA**
- NA BRITANSKEM OTOČJU STA DVE DRŽAVI:
 - **ZDRUŽENO KRALJESTVO VELIKE BRITANIJE IN SEVERNE IRSKE**
 - **REPUBLIKA IRSKA**

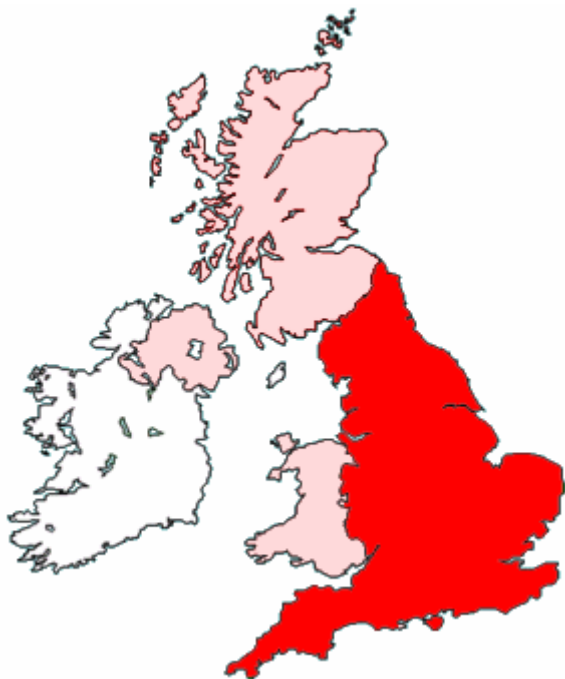
c) ZDRUŽENO KRALJESTVO SESTAVLJAJO ŠTIRJE DELI:

- ANGLIJA - LONDON
- WALES - CARDIFF
- ŠKOTSKA - EDINBURG
- SEVERNA IRSKA ALI ULSTER – BELFAST

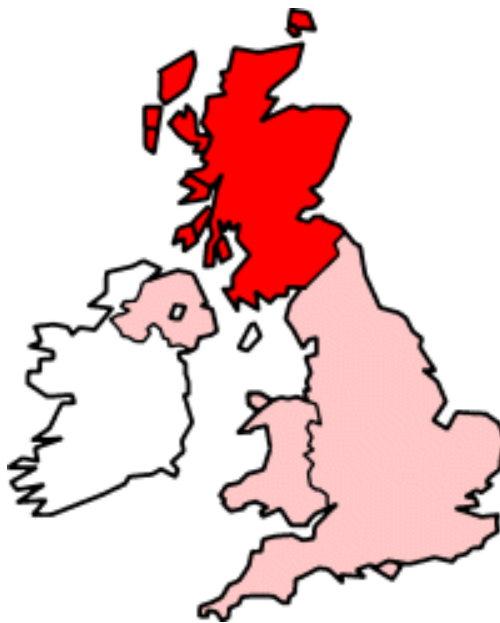




Združeno kraljestvo (UK)



ANGLIJA



ŠKOTSKA



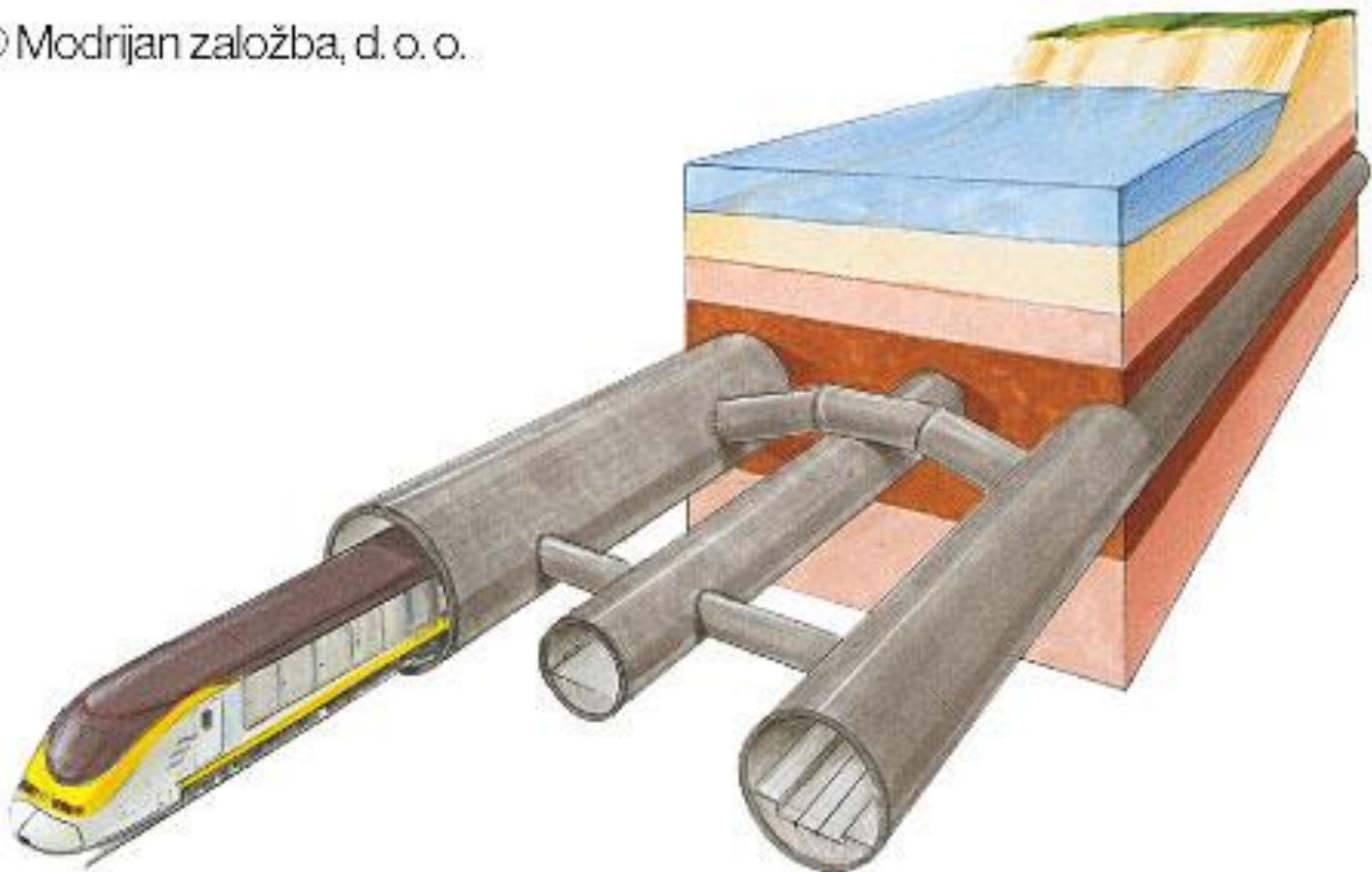
WALES

SEVERNA IRSKA
ALI ULSTER



Evropredor

© Modrijan založba, d. o. o.



Poišči morja in prelive, ki obdajajo Britansko otočje. Pomagaj si z atlasom na strani 46 (Britansko otočje).