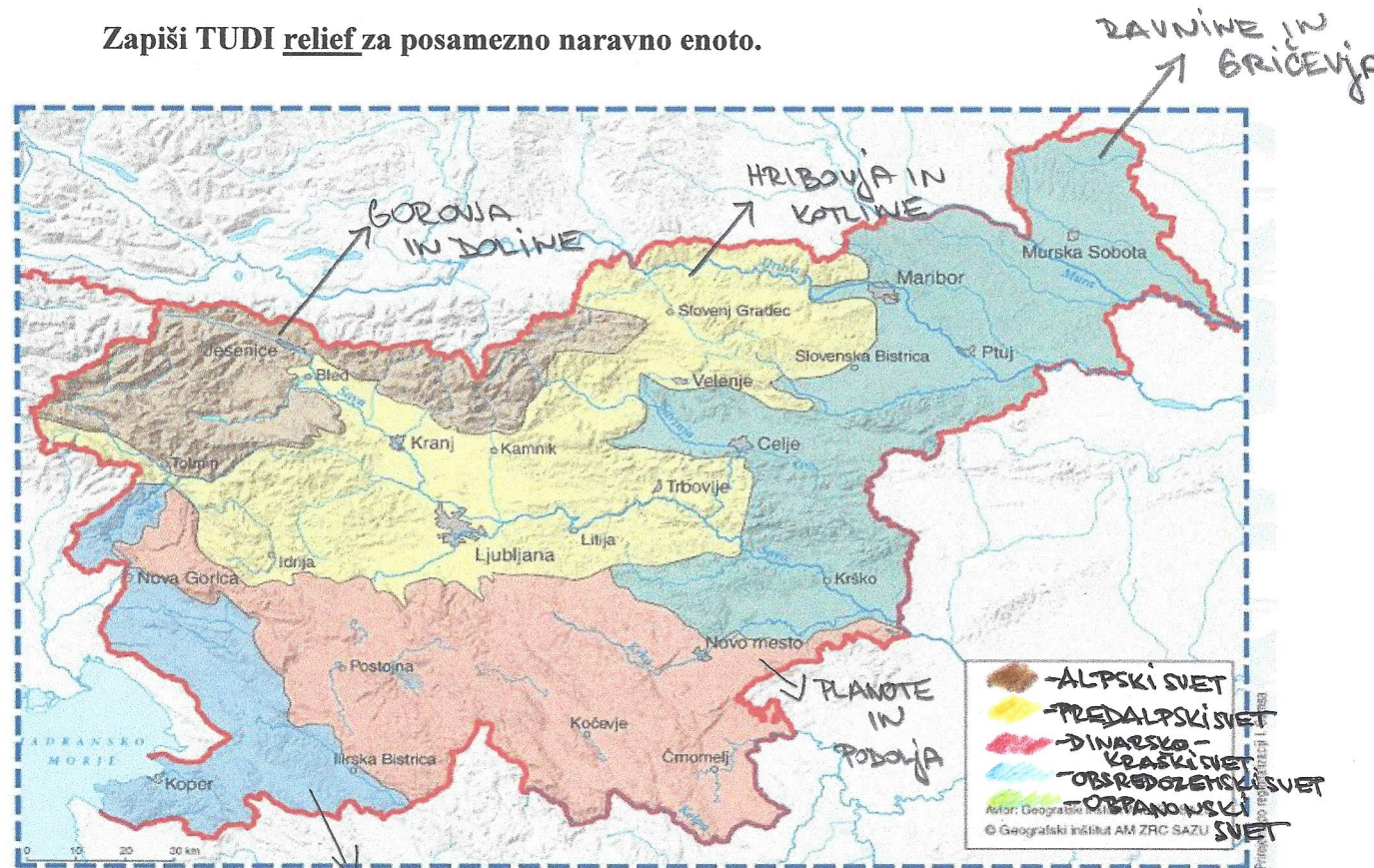


PONAVLJANJE ZNANJA IZ DRUŽBE (Učbenik, str. 24-71)

1. Poimenuj naravne enote Slovenije, v legendi napiši, kaj določena barva predstavlja.

Zapiši TUDI relief za posamezno naravno enoto.



V zvezku lahko v LEGENDI pobarvaš ustrezno barvo, ki jo kaže zemljevid in zapišeš samo naravne enote in relief za posamezno naravno enoto.

Ni ti potrebno natisniti zemljevida, če nimaš te možnosti.

2. Napisana so imena slovenskih rek. Pravilno jih poveži z ustrezno naravno enoto Slovenije. Pomisli, mogoče boš katero lahko povezal k več enotam. Pomagaj si z zemljevidom Slovenije.

SOČA

DRAVA

REKA

DRAGONJA

VIPAVA

PIVKA

SAVA

KRKA

SAVINJA

RINŽA

- obsredozemski svet

- alpski svet

- dinarsko-kraški svet

- obpanonski svet

- predalpski svet

3. Primerjaj alpski in predalpski svet z obpanonskim svetom. Zapiši kot primerjavo dveh naravnih enot, po čem se razlikujeta. Primerjaj relief, lego, delitev, dejavnosti ljudi nekoč in danes, tipične hiše, gospodarstvo nekoč in danes, značilne jedi, navade in običaji, druge značilnosti naravnih enot, večja mesta, reke, Primerjavo zapiši v zvezek, dolga naj bo vsaj pol strani.
4. Primerjaj staro primorsko hišo in staro panonsko hišo. Izpolni preglednico ali jo prepisi v zvezek in dopolni.

	PRIMORSKA HIŠA	PANONSKA HIŠA
Gradbeni material	KAMEN	ILOVICA, SLAMA
Kritina	POKRITA S KORCI IN OBLOŽENA S KAMENJEM	POKRITA S SLAMO
Višina hiše	VISOKA, GRAJENE SKUPAJ OZ. STRUJENE KOT V MESTIH	NIZKA PONAVALI V OBLIKI ČRKE L

5. Izmed spodaj naštetih besed z zeleno barvico obkroži tiste besede, ki opisujejo obpanonske pokrajine, z modro barvico pa tiste, ki opisujejo obsredozemske pokrajine.

ŠKOROMATIJA PRŠUT BUČE ŠTORKLJE PINJOLE GIBANICA OLJKE
 PLAZOVI SLAMA ZIDANICE SPLAVARSTVO BUDLE
 NAROD. MANJŠINA SOLINARSTVO ZALIV BENEČANI
 FIGE BURJA JABOLKA GROZDJE ZDRAVILIŠČA

6. Napiši 5 zanimivosti/posebnosti/običajev, ki si jih lahko ogleda turist v obsredozemskih pokrajinah ter 5 v dinarskokraških pokrajinah.

OBSREDOZEMSKÉ POKRAJINE	DINARSKOKRAŠKE POKRAJINE
ŠKOROMATIJA V BRKINIH	POSTOJNSKA JAMA
SEČOVELJSKE SOLINE	PRESHAJČA JEZERA
PRIMORSKA HIŠA V ŠTANJELU	KROŠNARJENJE
LIPICANCI NA KRASU	BLOŠKI SMUČARJI
BRISKE ČEŠNJE	BELOKRANJSKA NARODNA NOŠA

7. Opređeli pomen ravnin panonskega sveta za celotno Slovenijo.

Pomagaj si z vprašanji KAJ, KJE, ZAKAJ.

V OBPANONSKEM SVETU IMAMO NAJVEČ RAVNIN Z
 RODOVITNO ZEMLJO, TU PRIDELEJO TUDI NAJVEČ
 POLJŠČIN, KI SO POMEMBNE ZA SLOVENSKO SARKOSKORO.

8. Pravilno razvrsti besede iz levega stolpca k besedam v desnem stolpcu.

- | | | |
|-----------------------|---|--------------------|
| 1. vinogradništvo | 5 | Sečoveljske soline |
| 2. kurentovanje | 3 | kraški pojavi |
| 3. apnenčasta tla | 2 | Ptuj |
| 4. Petelinjsko jezero | 1 | Goričko |
| 5. solinarstvo | 4 | presihajoče jezero |

9. Naslednja mesta razvrsti (prepiši) v posamezne naravne enote Slovenije.

Pomagaj si z zemljevidom Slovenije.

KRANJ, LENDAVA, JESENICE, RIBNICA, SEŽANA, IZOLA, IDRIJA,

ČRNOMELJ, VIPAVA, LJUBLJANA, DRAVOGRAD, BOVEC, MURSKA SOBOTA,

TRBOVLJE, ROGAŠKA SLATINA, POSTOJNA, BLED, KOČEVJE, LJUTOMER,

VELENJE, NOVA GORICA, KRŠKO, PORTOROŽ

ALPSKE POKRAJINE	PREDALPSKE POKRAJINE	DINARSKO- KRAŠKE POKRAJINE	OBSREDOZEMSKÉ POKRAJINE	OBPANONSKÉ POKRAJINE
JESENICE BOVEC	KRANJ IDRIJA LJUBLJANA DRAVOGRAD TRBOVLJE BLED VELENJE	RIBNICA POSTOJNA KOČEVJE	SEŽANA IZOLA VIPAVA NOVA GORICA PORTOROŽ	LENDAVA ČRNOMELJ MURSKA SOBOTA ROGAŠKA SLATINA LJUTOMER VELENJE KRŠKO


10. V katero naravno enoto spadajo naslednje fotografije (vpiši na prvo črtico) in kakšen relief prevladuje na njih (vpiši na drugo črtico)?



1.

OBPANONSKI SVET


RAVNINE



2.

DINARSKO KRAŠKI SVET

PLANOTA



3.

OBSPREDOZEHSKI SVET

STRNA OBALA




4.

ALPSKI SVET


GOROVJA Z DOLINO

11. V katero naravno enoto spadajo naslednje fotografije? Napiši na črto



1.

OBSPREDOZEHSKI SVET



2.

ALPSKI SVET




3.

OBPANONSKI SVET




4.

OBPANONSKI SVET



5.

DINARSKO-KRAŠKI SVET



6.

OBSPREDOZEHSKI SVET

Če ne moreš natisniti, samo po številkah v zvezek zapiši naravno enoto oz. relief.